



# CÂMARA MUNICIPAL DE BELO JARDIM - PE

## CONCURSO PÚBLICO 2015

### CADERNO DE PROVA

### NÍVEL FUNDAMENTAL I

**Prova:** Auxiliar de Serviços Gerais

Dia: 17 de janeiro de 2016

**Leia com atenção:**

#### SUA PROVA

Além deste caderno de prova, contendo quarenta questões objetivas, você receberá do fiscal de sala:

- Uma folha destinada às respostas das questões objetivas.

#### TEMPO

- 3h é o tempo disponível para realização da prova, já incluído o tempo para a marcação da Folha de Respostas da prova objetiva;
- 1 hora após o início da prova é possível retirar-se da sala, sem levar o caderno de prova;
- 30 minutos antes do término do período de prova é possível retirar-se da sala levando o caderno de prova.

#### NÃO SERÁ PERMITIDO

- Qualquer tipo de comunicação entre os candidatos durante a aplicação da prova;
- Levantar da cadeira sem autorização do fiscal de sala;
- Após o término da prova o candidato não poderá fazer uso dos sanitários.

#### INFORMAÇÕES GERAIS

- A prova contém 40 questões objetivas de múltipla escolha;
- Verifique se seu caderno está completo, sem repetição de questões ou falhas. Caso contrário, notifique imediatamente o fiscal de sala, para que sejam tomadas as providências;
- Confira seus dados pessoais, especialmente nome, número de inscrição, documento de identidade e data de nascimento; leia atentamente as instruções para preencher a Folha de Resposta;
- Use somente caneta esferográfica, em material transparente, com tinta preta ou azul;
- Assine seu nome apenas nos espaços reservados;
- O preenchimento das respostas da prova objetiva é de sua responsabilidade e não será permitida a troca da Folha de Respostas em caso de erro;
- Reserve tempo suficiente para o preenchimento de suas respostas. Para fins de avaliação, serão levadas em consideração apenas as marcações realizadas na Folha de Resposta da prova objetiva, não sendo permitido anotar informações relativas às respostas em qualquer outro meio que não seja o caderno de prova;
- Os candidatos serão submetidos ao sistema de detecção de metais quando do ingresso e da saída de sanitários durante a realização da prova;
- Ao terminar a prova, o candidato entregará ao fiscal de sala, obrigatoriamente, sua folha de respostas;
- Os três últimos candidatos ao terminarem as provas deverão permanecer juntos no recinto, sendo liberados somente após os três terem devolvido o material utilizado e terem seus nomes registrados na Ata, além de coletadas suas respectivas assinaturas.

NOME: \_\_\_\_\_ SALA: \_\_\_\_\_

INSCRIÇÃO: \_\_\_\_\_ IDENTIDADE: \_\_\_\_\_ ORGÃO/UF: \_\_\_\_\_



## PROVA: Língua Portuguesa

### VÍTIMAS DA VIOLÊNCIA DOMÉSTICA NO BRASIL JÁ TÊM SEUS PRÓPRIOS SUPER-HERÓIS

Faz pouco mais de um mês, a agente de polícia Márcia Passos, de Porto Alegre (Rio Grande do Sul) recebeu uma chamada que lhe acelerou o coração. Do outro lado da linha, Passos foi informada de um incêndio na casa de uma suposta vítima de agressão. O marido da jovem pôs fogo na sua residência com seus filhos dentro.

“Como ela nos ligou imediatamente, conseguimos que a polícia e os bombeiros chegassem a tempo para salvar as crianças”, relembra a sargento, que trabalha há 23 anos na Brigada Militar de Porto Alegre. “Também apreendemos o autor do incêndio naquele mesmo dia, em um ponto de venda de maconha”.

A história terminou bem, porém o final poderia ter sido diferente se não fosse pelo trabalho da Patrulha Maria da Penha, da qual forma parte Passos desde sua fundação em outubro de 2014. Há onze equipes em todo o estado, seis deles nos bairros mais perigosos da capital. Todos se dedicam a monitorar casos de agressão a partir da primeira denúncia por parte das vítimas ou testemunhas.

No Brasil a violência de gênero é um tema cada vez mais preocupante. O país ocupa o sétimo lugar no mundo em feminicídios, com 4,4 mortes por cada 100.000 mulheres, segundo o Mapa da Violência 2015. No informe anterior (2012), o país ocupava o décimo segundo lugar.

#### Veículos lilás

O nome da patrulha Maria da Penha, é um reconhecimento a conhecida ativista contra a violência doméstica, que inspirou a lei contra a violência de gênero que também leva o seu nome. É um sinal claro do compromisso contra os maus-tratos contra a mulher em um estado onde ocorrem 4,1 mortes por cada 100.000 mulheres.

Basicamente, a patrulha se dirige as casas das mulheres e lhes informa que têm a sua disposição uma rede de apoio. Com a orientação da polícia, as vítimas de abusos podem obter a separação, a custódia dos filhos, abrir um processo contra seu companheiro, buscar apoio psicológico e se proteger de novas agressões.

Este tipo de apoio foi o que salvou a vida de Fátima (nome fictício), que pensava que, por ter estado casada com um policial, não receberia ajuda. “Agradeço a patrulha por ter confiado em mim. Fui agredida tantas vezes que cheguei a perder um seio”, afirma.

No seu primeiro ano de existência, os agentes atenderam a 1.971 mulheres, 537 das quais continuam sendo acompanhadas. Os veículos da patrulha são facilmente reconhecíveis nas ruas por seus adesivos de cor lilás, que simbolizam a luta contra a violência de gênero.

Além de ajudar as vítimas, a patrulha garante o cumprimento das medidas urgentes de proteção previstas na Lei Maria da Penha (de 2006), que devem ser implementadas no transcurso das 48 horas posteriores ao ataque.

Esta legislação permite que a mulher obtenha uma ordem judicial para que o agressor abandone imediatamente a residência. Também determina um limite mínimo de distância entre o homem e a vítima, assim como dos familiares e outras testemunhas da violência.

#### Proteção constante

“Estas medidas se encontram entre as principais inovações da lei”, resume Ivana Battaglin, vice-coordenadora da Comissão Permanente de Combate a Violência Doméstica e Familiar contra a Mulher (Copevid), que forma parte do Conselho Nacional de Procuradores Gerais.

Entretanto, a falta de fiscalização faz com que nem sempre as medidas sejam cumpridas. Em consequência, o agressor pode burlá-las e voltar a agredir a sua companheira ou mesmo tirar a sua vida.

A falta de proteção, além disso, é considerada um dos motivos pelos quais a Lei Maria da Penha não ajudou a reduzir os homicídios no Brasil, de acordo a um recente informe do Instituto de Pesquisa Econômica Aplicada.

Entre outubro de 2014 e o mesmo mês de 2015, a patrulha realizou 109 prisões por não cumprimento das medidas de proteção. Os pedidos de medidas urgentes de proteção aumentaram 53% neste período. Nenhuma das mulheres atendidas pela patrulha foi assassinada.

Através desta patrulha e outras iniciativas se espera reduzir os atuais índices de homicídio: o ano passado, 91 mulheres foram assassinadas no Rio Grande do Sul. Desse total, apenas 16 solicitaram medidas urgentes de proteção. Antes do fim de ano serão criadas duas patrulhas adicionais, e outras 23 ao longo de 2016.

“A patrulha seria muito bem-vinda no resto do país (Pernambuco já criou a sua) porque gera um efeito muito positivo na comunidade. Mostra que a lei chegou para ficar nos bairros e nas casas”, opina Boris Utria, coordenador geral de operações do Banco Mundial no Brasil.

Disponível em: <http://internacional.elpais.com>. Acesso em: 10 dez. 2015 (adaptado).

#### Questão 01

Quanto aos textos em análise, será correto apenas afirmar que

- a) A violência está sendo reduzida em nosso país de maneira forte.
- b) A falta de proteção vem diminuindo, sobretudo no Estado de Pernambuco.
- c) Em “**a patrulha seria muito bem-vinda**” (último parágrafo), há o sentido hipotético em relação à ação da polícia.
- d) A patrulha não está agindo de modo coerente em nenhuma região.
- e) O apoio das forças militares em relação à proteção se encontra em ordem decrescente.

#### Questão 02

“O nome da patrulha Maria da Penha, é um reconhecimento a conhecida ativista contra a violência doméstica...”.

Quanto ao trecho, marque a única alternativa correta

- a) Há somente substantivos abstratos.
- b) A palavra “**ativista**” é um termo adjetivo, no texto.
- c) O vocábulo “**lilás**” não se pluraliza e identifica algo relacionado à mulher.
- d) “**Maria da Penha**” é um nome que foi retomado pela palavra “**ativista**”.
- e) “**conhecida**” no contexto assume valor de um verbo de ação.

#### Questão 03

Na frase: “*A história terminou bem, porém o final poderia ter sido diferente se não fosse pelo trabalho da Patrulha Maria da Penha, da qual forma parte Passos desde sua fundação em outubro de 2014*”, o verbo **fosse** pode ser substituído por:

- a) Seja – Presente do subjuntivo.
- b) Foi – Pretérito perfeito do indicativo.
- c) For – Futuro do subjuntivo.
- d) Fora – Pretérito mais-que-perfeito do indicativo.
- e) Seria – Futuro do pretérito do indicativo.

#### Questão 04

Na frase: “*Também apreendemos o autor do incêndio naquele mesmo dia, em um ponto de venda de maconha*”, a palavra **apreendemos** pode ser substituída por:

- a) Captamos.
- b) Apresamos.
- c) Arrestamos.
- d) Urgimos.
- e) Conhecemos.

#### Questão 05

Na frase: “*Entretanto, a falta de fiscalização faz com que nem sempre as medidas sejam cumpridas. Em consequência, o agressor pode burlá-las e voltar a agredir a sua companheira ou mesmo tirar a sua vida*”, a expressão **entretanto** nos dá a ideia de:

- a) Justaposição.
- b) Causa.
- c) Condição.
- d) Consecução.
- e) Contraposição.

#### Questão 06

Na frase: “*Antes do fim de ano serão criadas duas patrulhas adicionais, e outras 23 ao longo de 2016*”, a expressão **ao longo de** expressa:

- a) Duração.
- b) Espera.
- c) Distância.
- d) Desenvolvimento.
- e) Longitude.

#### Questão 07

Na frase: “*Agradeço a patrulha por ter confiado em mim. **Fui** agredida tantas vezes que **cheguei** a perder um seio*”. Os verbos em negrito estão conjugados no tempo e modo:

- a) Futuro do Indicativo.
- b) Presente do Indicativo.
- c) Passado do Indicativo.
- d) Passado do Subjuntivo.
- e) Futuro do Subjuntivo.

#### Questão 08

Assinale a alternativa que não possui adjetivo ou locução adjetiva:

- a) O carro da patrulha é lilás.
- b) Porto Alegre é uma bela cidade para se viver.
- c) A agente de polícia ganhou prêmio da corporação.
- d) Ontem a minha vizinha foi espancada pelo marido.
- e) A violência de gênero é um tema preocupante.

#### Questão 09

Assinale a alternativa que apresenta apenas palavras escritas corretamente:

- a) Flexa, origem, mochila.
- b) Cachumba, mexa, enchurrada.
- c) Clareza, duqueza, princesa.
- d) Assédio, discente, suscinto.
- e) Berinjela, traje, vagem.

**Questão 10**

Leia o período abaixo quanto à ortografia e à morfologia marcando VERDADEIRO ou FALSO:

“Analisar não é fácil, mais quando a gente lê dá para entender qualquer texto”.

( ) Verdadeiro ( ) Falso

**Questão 11**

Assinale a alternativa correta que apresenta um exemplo de dígrafo consonantal:

- a) Limpeza.
- b) Porteiro.
- c) Tampa.
- d) Esfregão.
- e) Desça.

**Questão 12**

Assinale a alternativa na qual todas as palavras estão grafadas corretamente:

- a) Musulmano – benvindo – distância.
- b) Paralizado – cabeleleiro – microorganismo.
- c) Chuchu – cafajeste – adivinhar.
- d) Pixar – canalizar – zuar.
- e) Cônjuge – pontífice – mortandela.

**Questão 13**

“Recife tem encantos mil. É um pedacinho do Brasil”. Assinale a alternativa que indica a flexão correta dos verbos.

- a) 1ª. Pessoa do singular do presente do Indicativo.
- b) 3ª. Pessoa do singular do pretérito perfeito do Indicativo.
- c) 1ª. Pessoa do singular do pretérito perfeito do Indicativo.
- d) 3ª. Pessoa do singular do presente do Indicativo.
- e) 3ª. Pessoa do singular do pretérito imperfeito do subjuntivo.

**Questão 14**

O plural da frase “...uma galinha cacarejou triste em algum poleiro...” é:

- a) duas galinhas cacarejaram triste.
- b) as galinhas cacarejaram triste.
- c) umas galinhas cacarejaram tristes.
- d) umas galinhas cacarejavam tristes.
- e) duas galinhas cacarejavam tristes.

**Questão 15**

Assinale a alternativa que apresenta o plural correto.

- a) Espertalhão - espertalhões.
- b) Cão – cães.
- c) Sanguíneo - sanguínios.
- d) Proposição – proposições.
- e) Pão - pães.

**Questão 16**

A sequência em que todas as palavras estão acentuadas CORRETAMENTE é

- a) Também – chá – ninguém – você.
- b) Exigências – trânsito – açúcar – xícara.
- c) Açúcar – potássio – xícara – potássio – pétala.
- d) Recomendações – trânsito – mortuário – água.
- e) Gratuito – fortuito – intuito – flúido.

**Questão 17**

A palavra “golaço” está no:

- a) Plural.
- b) Radical.
- c) Diminutivo.
- d) Derivado.
- e) Aumentativo.

**Questão 18**

Assinale a alternativa na qual todos os termos estão CORRETAMENTE acentuados:

- a) Necessariamente - periódico - romântico.
- b) Ortopedísta - cardiológico - numérico.
- c) Literário - contraditório - portuário.
- d) Prêmiações - meritório – judaico
- e) Poluição - dentário - geografia

**Questão 19**

Assinale a alternativa em que a palavra está grafada CORRETAMENTE:

- a) Excessão.
- b) Ascensão.
- c) Cincoenta
- d) A través
- e) Analizar

**Questão 20**

Em qual das alternativas todas as palavras são substantivos?

- a) Cabelo – jargão – perigo – Deus.
- b) Fumaça – beleza – prazer – brando.
- c) Célebre – velhice – Jorge – gasoso.
- d) Raul – ramo – alma – antes.
- e) Prontuário – pagode – violento – abastado.

**PROVA: Raciocínio Lógico**

**Questão 21**

Paulo é 15 anos mais novo que André, que é 11 anos mais novo que Jorge. Jorge tem 87 anos. A idade de Paulo é:

- a) 61
- b) 72
- c) 76
- d) 74
- e) 26

**Questão 22**

Analise a seguinte sequência: ...118, 121, 124, 127,...  
O próximo número é:

- a) 128
- b) 129
- c) 130
- d) 133
- e) 137

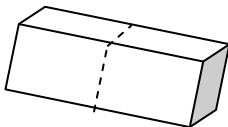
**Questão 23**

Maria deu três peixes para dois gatos, logo dezoito gatos receberão a seguinte quantidade de peixe:

- a) 12
- b) 18
- c) 21
- d) 27
- e) 54

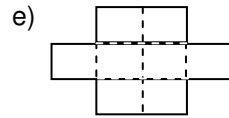
**Questão 24**

O funcionário de uma loja precisa montar uma caixa totalmente fechada, conforme a figura abaixo:



Assinale a alternativa que corresponde à forma que permitirá ao funcionário montar a caixa.

- a) b)
- c) d)



**Questão 25**

O total de objetos em uma determinada prateleira é igual à quarta parte de 28, somada ao dobro da terça parte de 21. Assim a quantidade de objetos na prateleira é:

- a) 7
- b) 14
- c) 18
- d) 21
- e) 28


**Questão 26**

O total de caixas colocadas em um depósito corresponde à terça parte de 18, multiplicada pela quinta parte de 40. Logo o total de caixas no depósito é de:

- a) 58
- b) 54
- c) 48
- d) 30
- e) 6

**Questão 27**

Analise a sequência formada pelas figuras abaixo:



Dando continuidade à sequência acima, o número de lados da 4ª figura a ser desenhada será:

- a) 4
- b) 6
- c) 7
- d) 8
- e) 9

**Questão 28**

Paulo nasceu em 25 de dezembro de 2013, seu irmão Pedro nasceu em 10 de março de 2014. A diferença de dias entre o nascimento de Paulo e Pedro é de:

- a) 72
- b) 73
- c) 74
- d) 75
- e) 76

**Questão 29**

Na sequência de palavras A, BI, CID, DEDO, ENTRE, FOFOCA,...., a sétima palavra é:

- a) GRAMADO
- b) FURACÃO
- c) ABACATE
- d) ESTAR
- e) GELADO

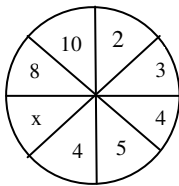
**Questão 30**

Conforme a sequência infinita: BIOLOGBIOLOG ..., a letra representada pelo elemento da 139ª posição da sequência é:

- a) I
- b) O
- c) L
- d) G
- e) B

**Questão 31**

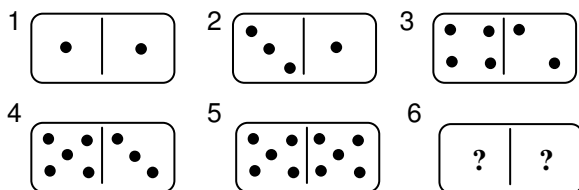
O número a ser substituído pela letra x na figura abaixo é:



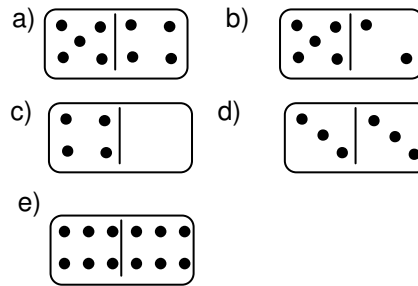
- a) 3
- b) 6
- c) 7
- d) 9
- e) 2

**Questão 32**

As peças de dominó abaixo apresentam um padrão lógico.



Seguindo o padrão acima representado pela sequência das peças, assinale a única alternativa que indica a peça que poderá ser colocada na sexta posição:



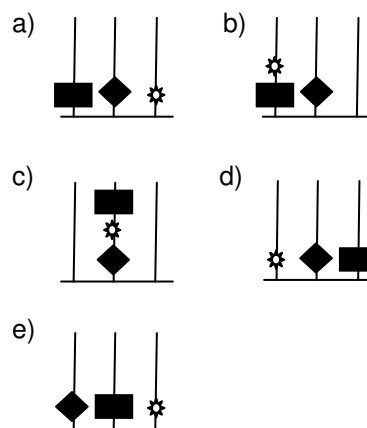
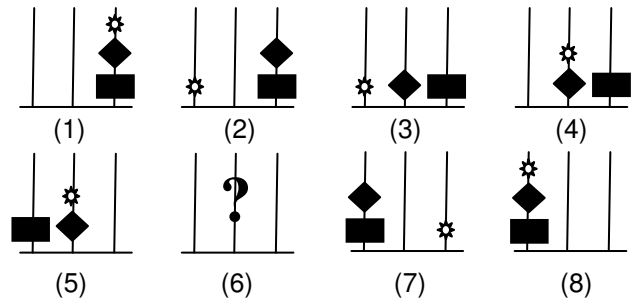
**Questão 33**

Paulo possui 4 camisas e 3 calças diferentes. De quantas formas ele pode vestir uma calça e uma camisa?

- a) 3
- b) 4
- c) 7
- d) 12
- e) 15

**Questão 34**

Conforme a sequência das figuras abaixo, assinale a alternativa que corresponde à posição (6):



**Questão 35**

Assinale a opção que corresponda à negação da frase: **“Hoje é quarta-feira e amanhã não choverá”**.

- a) Hoje é quarta-feira ou amanhã choverá.
- b) Hoje não é quarta-feira e amanhã não choverá.
- c) Hoje não é quarta-feira e amanhã choverá.
- d) Hoje não é quarta-feira ou amanhã choverá.
- e) Hoje não é quarta-feira ou amanhã não choverá.

**Questão 36**

Analise a sentença abaixo:

- Todos os motoristas são eletricitas.

Assim sendo:

- a) Alguns motoristas não são eletricitas.
- b) O conjunto dos eletricitas contém o conjunto dos motoristas.
- c) O conjunto dos motoristas contém o conjunto dos eletricitas.
- d) Todos os eletricitas são motoristas.
- e) Não há eletricitas motoristas.

**Questão 37**

Uma marca de chocolates lançou a seguinte promoção: Cada 3 embalagens desse chocolate poderia ser trocada por um novo chocolate. Para aproveitar a promoção, Joana comprou de uma só vez 11 chocolates. A partir dessa compra podemos afirmar que o número total de chocolates que Joana poderá consumir será:

- a) 11
- b) 13
- c) 14
- d) 15
- e) 16

**Questão 38**

Uma parede de 15 metros foi construída utilizando 2.352 tijolos. Para construir uma parede de 40 metros nas mesmas condições da anterior serão necessários quantos tijolos?

- a) 6.272
- b) 882
- c) 9.408
- d) 4.704
- e) 627

**Questão 39**

Por uma determinada estrada a viagem de Recife/PE até Aracaju/SE tem aproximadamente 500Km. De Recife até Maceió/AL faz-se  $\frac{3}{4}$  da viagem. Quantos quilômetros há de Maceió até Aracaju?

- a) 375
- b) 1.500
- c) 125
- d) 750
- e) 130

**Questão 40**

Em um concurso, um candidato acertou 18 questões e errou 12. Qual a razão entre o número de acertos e o total de questões da prova?

- a)  $\frac{3}{2}$
- b)  $\frac{2}{3}$
- c)  $\frac{3}{5}$
- d)  $\frac{2}{5}$
- e)  $\frac{5}{3}$